

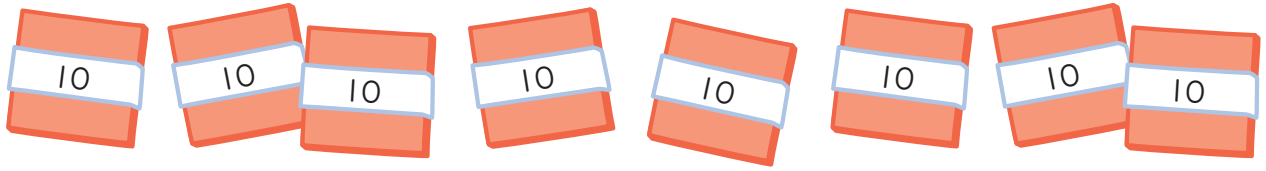
文章題 対象：4年生 ねらい：文章を読んで問題を理解し、正しい式を立てられる。

点 \_\_\_\_\_

学習プリント無料ダウンロード  
ちびむすドリル  
© ちびむすドリル



1 お折り紙が 80 まいあります。4 人に同じ数ずつ配ると、  
1 人分は何まいになりますか。式 10 点  
答え 10 点 (20)



式 \_\_\_\_\_

答え \_\_\_\_\_

2 720 このビーズを 9 人に同じ数ずつ配ると、1 人分は何こになりますか。  
式 10 点 答え 10 点 (20)

式 \_\_\_\_\_

答え \_\_\_\_\_

3 折り紙が 50 まいあります。3 人に同じ数ずつ配ると、  
1 人分は何まいになって、何まいあまりますか。式 10 点  
答え 10 点 (20)

計算らん

式 \_\_\_\_\_

答え \_\_\_\_\_  
\_\_\_\_\_

4 342 まいの折り紙を 6 人に同じ数ずつ配ると、  
1 人分は何まいになりますか。式 10 点  
答え 10 点 (20)

式 \_\_\_\_\_

答え \_\_\_\_\_

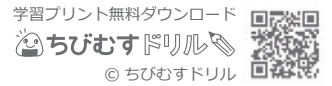
5 208 このあめを、1 人に 6 こずつ配ると、式 10 点  
答え 10 点 (20)  
何人に分けられて、何こあまりますか。

式 \_\_\_\_\_

答え \_\_\_\_\_  
\_\_\_\_\_

文章題 対象：4年生 ねらい：文章を読んで問題を理解し、正しい式を立てられる。


点



- 1 15 円のガムがあります。チョコレートのねだんは、ガムの4倍です。チョコレートのねだんは、何円ですか。 式 10 点 答え 10 点 (20)



15 円



□ 円

式

答え

- 2 ひろしさんはカードを21まい、弟は7まい持っています。ひろしさんの持っているカードのまい数は、弟の何倍ですか。 式 10 点 答え 10 点 (20)

式

答え

- 3 親犬の体重は子犬の体重の5倍で20kgです。子犬の体重は何kgですか。子犬の体重を□kgとして、かけ算の式に表してから答えを求めましょう。

式

答え

- 4 50 ページのノートがあります。1日に4 ページずつ使うと、何日で使い終わりますか。

式

答え

- 5 680このあめを同じ数ずつ分けて、5つのふくろに入れます。1ふくろに、何こずつ入れればよいですか。

式

答え

計算らん

## 文章問題 (3)

文章題

対象：4年生 ねらい：文章を読んで問題を理解し、正しい式を立てられる。

点

学習プリント無料ダウンロード

ちびむすドリル

© ちびむすドリル



- 1 お折り紙が 80 まいあります。1 人に 20 まいずつ配ると、何人に分けられますか。式 10 点  
答え 10 点 (20)



式

答え

- 2 トランプが 54 まいあります。式 10 点  
答え 10 点 (20)  
12 人に同じ数ずつ分けると、  
1 人分は何まいになって、何まいあまりますか。

計算らん

式

答え

- 3 さつきさんがボールペンを 14 本買うと、代金は 952 円でした。  
ボールペン 1 本のねだんは何円ですか。式 10 点  
答え 10 点 (20)

式

答え

- 4 230 このあめを、25 こずつふくろに入れます。  
何ふくろできて、何こあまりますか。式 10 点  
答え 10 点 (20)

式

答え

- 5 900mL のジュースを、180mL ずつコップに分けます。  
180mL 入りのコップは何こできますか。式 10 点  
答え 10 点 (20)

式

答え

## 文章問題 (4)

文章題

対象：4年生 ねらい：文章を読んで問題を理解し、正しい式を立てられる。

点

学習プリント無料ダウンロード

ちびむすドリル

© ちびむすドリル



- 1 318円のサンドイッチと178円のジュースを買います。

代金を1000円札ではらうと、おつりはおよそいくらになりますか。

それぞれの代金を、四捨五入して

式 10点 答え 10点 (20)

百の位までのがい数にして、

おつりを見積もりましょう。



318円



178円

式

答え

- 2 1こ389円のシュークリームを53こ買うときの代金を、がい数で

求めましょう。式 10点 答え 各10点 (40)

- ① 389, 53をそれぞれ四捨五入して、上から1けたのがい数にしましょう。

389 ▶ ( ) 53 ▶ ( )

- ② 代金はおよそいくらになりますか。

式

答え

- 3 29人で博物館に行くと、入場料が全員分で6380円かかります。

1人分の入場料をがい数で求めましょう。式 10点 答え 各10点 (40)

- ① 29, 6380をそれぞれ四捨五入して、上から1けたのがい数にしましょう。

29 ▶ ( ) 6380 ▶ ( )

- ② 1人分の入場料はおよそいくらになりますか。

式

答え

## 文章問題 (5)

文章題

対象：4年生 ねらい：文章を読んで問題を理解し、正しい式を立てられる。

点

学習プリント無料ダウンロード

ちびむすドリル

© ちびむすドリル



1 大きいバケツには 2.4L, 小さいバケツには 1.5L

の水が入っています。水はあわせて何Lですか。式 10 点  
答え 10 点 (20)

2.4L



1.5L

式

答え

計算らん

2 さとうが 1.2kg あります。式 10 点  
答え 10 点 (20)

0.5kg 使うと, のこりは何 kg ですか。

式

答え

3 1本 1.5L 入りのお茶のペットボトルが 5 本あります。

お茶は全部で何Lになりますか。式 10 点  
答え 10 点 (20)

式

答え

4 25m のリボンを 4 人で等分すると, 式 10 点  
答え 10 点 (20)

1 人分は何 m になりますか。

式

答え

5 ジュースが 10dL あります。これを 3 人で等分すると,

1 人分はおよそ何 dL になりますか。答えは四捨五入  
して, 上から 2 けたのがい数で求めましょう。式 10 点  
答え 10 点 (20)

式

答え