

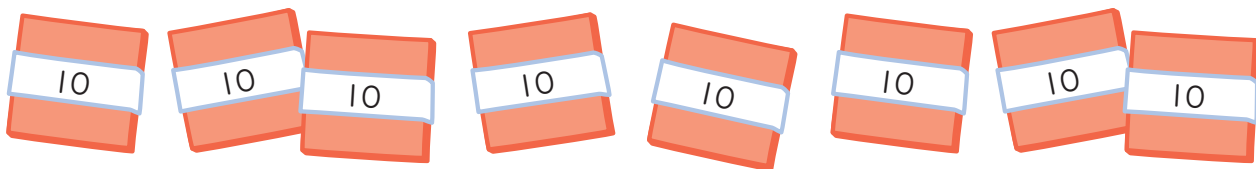
文章問題 (1)

文章題

対象：4年生 ねらい：文章を読んで問題を理解し、正しい式を立てられる。

点

- 1 お折り紙が 80 まいあります。4 人に同じ数ずつ配ると、1 人分は何まいになりますか。式 10 点 答え 10 点 (20)



$$\text{式 } 80 \div 4 = 20$$

答え 20 まい

- 2 720 このビーズを 9 人に同じ数ずつ配ると、1 人分は何こになりますか。式 10 点 答え 10 点 (20)

$$\text{式 } 720 \div 9 = 80$$

答え 80 こ

- 3 お折り紙が 50 まいあります。3 人に同じ数ずつ配ると、1 人分は何まいになって、何まいあまりますか。式 10 点 答え 10 点 (20)

$$\text{式 } 50 \div 3 = 16 \text{ あまり } 2$$

答え 1 人分は 16 まいになって、
2 まいあまる。

計算らん

$$\begin{array}{r} 16 \\ 3 \overline{)50} \\ \underline{3} \\ 20 \\ \underline{18} \\ 2 \end{array}$$

- 4 342 まいの折り紙を 6 人に同じ数ずつ配ると、1 人分は何まいになりますか。式 10 点 答え 10 点 (20)

$$\text{式 } 342 \div 6 = 57 \quad \text{答え } \underline{57 \text{ まい}}$$

$$\begin{array}{r} 57 \\ 6 \overline{)342} \\ \underline{30} \\ 42 \\ \underline{42} \\ 0 \end{array}$$

- 5 208 このあめを、1 人に 6 こずつ配ると、式 10 点 答え 10 点 (20)
何人に分けられて、何こあまりますか。

$$\text{式 } 208 \div 6 = 34 \text{ あまり } 4$$

答え 34 人にわけられて、
4 こあまる。

$$\begin{array}{r} 34 \\ 6 \overline{)208} \\ \underline{18} \\ 28 \\ \underline{24} \\ 4 \end{array}$$

文章問題 (2)

文章題

対象：4年生 ねらい：文章を読んで問題を理解し、正しい式を立てられる。

点

学習プリント無料ダウンロード

ちびむすドリル


© ちびむすドリル



1 15 円のガムがあります。チョコレートのねだんは、

ガムの4倍です。チョコレートのねだんは、何円ですか。 式 10 点
答え 10 点 (20)

15 円



□ 円

式 $15 \times 4 = 60$

答え 60 円2 ひろしさんはカードを 21 まい、弟は 7 まい持っています。 式 10 点
答え 10 点 (20)

ひろしさんの持っているカードのまい数は、弟の何倍ですか。

式 $21 \div 7 = 3$

答え 3 倍3 親犬の体重は子犬の体重の 5 倍で 20kg です。 式 10 点
答え 10 点 (20)

子犬の体重は何 kg ですか。

子犬の体重を □ kg として、かけ算の式に表してから答えを求めましょう。

式 $\square \times 5 = 20$

$\square = 20 \div 5 = 4$ 答え 4kg

4 50 ページのノートがあります。 式 10 点
答え 10 点 (20)

1 日に 4 ページずつ使うと、何日で使い終わりますか。

式 $50 \div 4 = 12$ あまり 2

答え 13 日

計算らん

$$\begin{array}{r} 12 \\ 4 \overline{) 50} \\ \underline{4} \\ 10 \\ \underline{8} \\ 2 \end{array}$$

5 680 このあめを同じ数ずつ分けて、 式 10 点
答え 10 点 (20)

5 つのふくろに入れます。

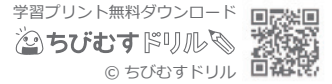
1 ふくろに、何こずつ入れればよいですか。

式 $680 \div 5 = 136$ 答え 136 こ

$$\begin{array}{r} 136 \\ 5 \overline{) 680} \\ \underline{5} \\ 18 \\ \underline{15} \\ 30 \\ \underline{30} \\ 0 \end{array}$$

文章題 対象：4年生 ねらい：文章を読んで問題を理解し、正しい式を立てられる。

点 _____



- 1 お折り紙が80まいあります。1人に20まいずつ配ると、何人に分けられますか。 式10点 答え10点(20)



式 $80 \div 20 = 4$

答え 4人

- 2 トランプが54まいあります。 式10点 答え10点(20)
 12人に同じ数ずつ分けると、
 1人分は何まいになって、何まいあまりますか。

計算らん

$$\begin{array}{r} 4 \\ 12 \overline{)54} \\ \underline{48} \\ 6 \end{array}$$

式 $54 \div 12 = 4 \text{ あまり } 6$

答え 1人分は4まいになって、6まいあまる。

- 3 さつきさんがボールペンを14本買うと、代金は952円でした。
 ボールペン1本のねだんは何円ですか。 式10点 答え10点(20)

式 $952 \div 14 = 68$ 答え 68円

$$\begin{array}{r} 68 \\ 14 \overline{)952} \\ \underline{84} \\ 112 \\ \underline{112} \\ 0 \end{array}$$

- 4 230このあめを、25こずつふくろに入れます。
 何ふくろできて、何こあまりますか。 式10点 答え10点(20)

式 $230 \div 25 = 9 \text{ あまり } 5$

答え 9ふくろできて、5こあまる。

$$\begin{array}{r} 9 \\ 25 \overline{)230} \\ \underline{225} \\ 5 \end{array}$$

- 5 900mLのジュースを、180mLずつコップに分けます。
 180mL入りのコップは何こできますか。 式10点 答え10点(20)

式 $900 \div 180 = 5$ 答え 5こ

$$\begin{array}{r} 5 \\ 180 \overline{)900} \\ \underline{900} \\ 0 \end{array}$$

文章問題 (4)

文章題

対象：4年生 ねらい：文章を読んで問題を理解し、正しい式を立てられる。

点

学習プリント無料ダウンロード

ちびむすドリル

© ちびむすドリル



- 1 318円のサンドイッチと178円のジュースを買います。

代金を1000円札ではらうと、おつりはおよそいくらになりますか。

それぞれの代金を、四捨五入して

式 10点 答え 10点 (20)

百の位までのがい数にして、

おつりを見積もりましょう。



318円



178円

$$\text{式 } 1000 - 300 - 200 = 500$$

答え およそ 500円

- 2 1こ389円のシュークリームを53こ買うときの代金を、がい数で求めましょう。式 10点 答え 各 10点 (40)

- ① 389, 53をそれぞれ四捨五入して、上から1けたのがい数にしましょう。

$$389 \blacktriangleright (400) \quad 53 \blacktriangleright (50)$$

- ② 代金はおよそいくらになりますか。

$$\text{式 } 400 \times 50 = 20000$$

答え およそ 20000円

- 3 29人で博物館に行くと、入場料が全員分で6380円かかります。

1人分の入場料をがい数で求めましょう。式 10点 答え 各 10点 (40)

- ① 29, 6380をそれぞれ四捨五入して、上から1けたのがい数にしましょう。

$$29 \blacktriangleright (30) \quad 6380 \blacktriangleright (6000)$$

- ② 1人分の入場料はおよそいくらになりますか。

$$\text{式 } 6000 \div 30 = 200$$

答え およそ 200円

文章問題 (5)

文章題

対象：4年生 ねらい：文章を読んで問題を理解し、正しい式を立てられる。

点

学習プリント無料ダウンロード

ちびむすドリル

© ちびむすドリル



1 大きいバケツには 2.4L, 小さいバケツには 1.5L

の水が入っています。水はあわせて何Lですか。式 10 点
答え 10 点 (20)

2.4L



1.5L

式 $2.4 + 1.5 = 3.9$

答え 3.9L

計算らん

$$\begin{array}{r} 2.4 \\ + 1.5 \\ \hline 3.9 \end{array}$$

2 さとうが 1.2kg あります。式 10 点
答え 10 点 (20)

0.5kg 使うと, のこりは何 kg ですか。

式 $1.2 - 0.5 = 0.7$ 答え 0.7kg

$$\begin{array}{r} 1.2 \\ - 0.5 \\ \hline 0.7 \end{array}$$

3 1本 1.5L 入りのお茶のペットボトルが 5 本あります。

お茶は全部で何Lになりますか。式 10 点
答え 10 点 (20)

式 $1.5 \times 5 = 7.5$ 答え 7.5L

$$\begin{array}{r} 1.5 \\ \times 5 \\ \hline 7.5 \end{array}$$

4 25m のリボンを 4 人で等分すると, 式 10 点
答え 10 点 (20)

1 人分は何 m になりますか。

式 $25 \div 4 = 6.25$ 答え 6.25m

$$\begin{array}{r} 6.25 \\ 4 \overline{) 25} \\ \underline{24} \\ 10 \\ \underline{8} \\ 20 \\ \underline{20} \\ 0 \end{array}$$

5 ジュースが 10dL あります。これを 3 人で等分すると,

1 人分はおよそ何 dL になりますか。答えは四捨五入して, 上から 2 けたのがい数で求めましょう。式 10 点
答え 10 点 (20)

式 $10 \div 3 = 3.33\cdots$

答え およそ 3.3dL

$$\begin{array}{r} 3.33 \\ 3 \overline{) 10} \\ \underline{9} \\ 10 \\ \underline{9} \\ 10 \\ \underline{9} \\ 1 \end{array}$$