

## 文章問題 (1)

文章題

対象：3年生 ねらい：文章を読んで問題を理解し、正しい式を立てられる。

点


学習プリント無料ダウンロード

ちびむすドリル

© ちびむすドリル



- 1 あめが15こあります。5人に同じ数ずつ<sup>くば</sup>配ると、  
1人分は何こになりますか。 式 10点  
答え 10点 (20)

しき  
式

答え

- 2 おり紙が40まいあります。1人に8まいずつ配ると、<sup>式 10点</sup>  
<sup>答え 10点 (20)</sup>  
何人に分けられますか。

式

答え

- 3 花が54本あります。6本ずつたばにして花たばを作ります。<sup>式 10点</sup>  
<sup>答え 10点 (20)</sup>  
花たばはいくつできますか。

式

答え

- 4 子どもが32人います。同じ人数ずつ4つのチームに分けると、<sup>式 10点</sup>  
<sup>答え 10点 (20)</sup>  
1チームは何人になりますか。

式

答え

- 5 63cmのひもを同じ長さずつ9本に切ります。<sup>式 10点</sup>  
<sup>答え 10点 (20)</sup>  
1本の長さは何cmになりますか。

式

答え

## 文章問題 (2)

文章題

対象：3年生 ねらい：文章を読んで問題を理解し、正しい式を立てられる。

点

学習プリント無料ダウンロード


ちびむすドリル

© ちびむすドリル



計算らん

- 1 256 円のサンドイッチと 168 円のジュースを  
買います。代金はいくらになりますか。

式 15 点  
答え 10 点 (25)

256 円



168 円

しき  
式

答え

- 2 352 ページある本を 276 ページまで読みました。  
のこりは何ページですか。

式 15 点  
答え 10 点 (25)

式

答え

- 3 ゆかさんの学校には女の子が 462 人、男の子が 479 人います。  
あわせて何人ですか。

式 15 点  
答え 10 点 (25)

式

答え

- 4 けんたさんは、500 円玉で 98 円のラムネを買いました。  
おつりはいくらになりましたか。

式 15 点  
答え 10 点 (25)

式

答え

## 文章問題 (3)

文章題

対象：3年生 ねらい：文章を読んで問題を理解し、正しい式を立てられる。

点

学習プリント無料ダウンロード

ちびむすドリル

© ちびむすドリル



- 1 えんぴつが 26 本あります。1 人に 4 本ずつ<sup>くば</sup>配ると、  
何人に分けられて、何本あまりますか。 式 15 点  
答え 10 点 (25)

しき  
式

答え

- 2 おり紙が 50 まいあります。6 人に同じ数ずつ分けると、式 15 点  
答え 10 点 (25)  
1 人分は何まいになって、何まいあまりますか。

式

答え

- 3 15dL のお茶があります。2dL ずつコップに分けると、式 15 点  
答え 10 点 (25)  
2dL 入りのコップは何こできて、何 dL あまりますか。

式

答え

- 4 30 ページのノートがあります。1 日に 4 ページずつ<sup>つか</sup>使うと、式 15 点  
答え 10 点 (25)  
何日で使い終わりますか。

式

答え

## 文章問題 (4)

文章題

対象：3年生 ねらい：文章を読んで問題を理解し、正しい式を立てられる。

点

学習プリント無料ダウンロード

ちびむすドリル

© ちびむすドリル



- 1 こ 58 円のチョコレート を 5 こ 買います。 式 10 点  
 答え 10 点 (20)

だいきん  
 代金は いくら になりますか。

しき  
式

答え  
 \_\_\_\_\_

計算らん

- 2 1 本 128 円で 480mL 入りのお茶 を 8 本 買います。 式 各 10 点  
 答え 各 10 点 (40)

- ① 代金は いくら になりますか。

式

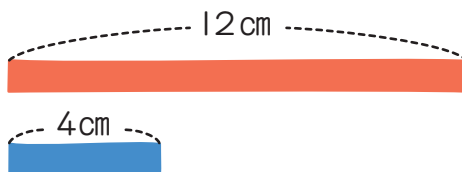
答え  
 \_\_\_\_\_

- ② お茶は 全部 あわせて 何 mL になりますか。

式

答え  
 \_\_\_\_\_

- 3 12cm の赤いリボン と 4cm の青いリボン があります。 式 各 10 点  
 答え 各 10 点 (40)



- ① 赤いリボンの 3 倍の長さは、何 cm ですか。

式

答え  
 \_\_\_\_\_

- ② 赤いリボンの長さは、青いリボンの何倍ですか。

式

答え  
 \_\_\_\_\_

## 文章問題 (5)

文章題

対象：3年生 ねらい：文章を読んで問題を理解し、正しい式を立てられる。

点

学習プリント無料ダウンロード

ちびむすドリル

© ちびむすドリル



- 1 1こ62円のけしゴムを12こ買います。式15点  
答え10点(25)

だいきん  
代金はいくらになりますか。



62円

しき  
式

計算らん

答え

- 2 1こ350円のケーキを25こ買います。式15点  
答え10点(25)

代金はいくらになりますか。

式

答え

- 3 1ふくろにシールが9まい入って、81円で売っています。式15点  
答え10点(25)

このシール27まい分の代金はいくらですか。

式

答え

- 4 ひろしさんは、1さつ76円のノートを12さつ買います。式15点  
答え10点(25)

1000円出すと、おつりはいくらになりますか。

式

答え